

1. 8, 1, 11, 4, 14, 9, 17, 16, ..., ...
 - A. 20 dan 25
 - B. 20 dan 24
 - C. 25 dan 20
 - D. 20 dan 36
 - E. 36 dan 20

2. 2, 3, 5, 8, 7, 5, 2, 4, 7, 11, 9, 6, ..., ...
 - A. 2 dan 3
 - B. 2 dan 6
 - C. 3 dan 5
 - D. 2 dan 5
 - E. 4 dan 7

3. 121, 111, 81, 108, 49, 103, 25, ..., ...
 - A. 96 dan 3
 - B. 96 dan 9
 - C. 9 dan 9
 - D. 9 dan 96
 - E. 3 dan 96

4. V, 2, P, 3, K, 6, G, 11, ..., ...
 - A. D dan 19
 - B. E dan 18
 - C. D dan 15
 - D. E dan 18
 - E. D dan 18

5. Jika hari ini sabtu, maka Rangga pergi ke pasar
Jika Rangga pergi ke pasar, maka ia bersama dengan ibu.
Hari ini ibu dan Rangga tidak bersama karena Rangga di luar kota
 - A. Hari ini bukan hari minggu
 - B. Hari ini Rangga bekerja
 - C. Hari ini bukan hari Sabtu

D. Hari ini mereka ke pasar

E. Hari ini ibu ke pasar

6. Orang tua sangat menyayangi anak-anaknya yang berusaha membalas budi

Orang tua adalah panutan, selalu menjaga dan melindungi anak-anaknya

Selalu berusaha menjadi anak yang baik dan berbakti adalah cara kita membalas budi

Orang tua.

A. Membalas budi orang tua dengan cara menjaga dan melindungi karena orang tua panutan anak-anaknya.

B. Membalas budi orang tua adalah bukti sayang dan bakti kita kepada orang tua

C. Selalu berbakti kepada orang tua akan disayang oleh orang tua

D. Anak-anak melakukan kebaikan dan bakti kepada orang tua

E. Orang tua adalah panutan yang menyayangi anak-anaknya yang berusaha menjadi anak baik dan berbakti

7. Semua tentara yang ada di Indonesia adalah berbadan tegap.

Mereka selalu disiplin dan taat kepada Pancasila dan UUD 1945

Alvin badannya tidak tegap, namun disiplin dan taat kepada Pancasila dan UUD 1945

Alvin adalah tentara yang ada di Indonesia

Alvin bukan tentara yang taat pada UUD 1945 dan Pancasila

Meskipun disiplin dan taat, Alvin sudah pasti bukan tentara yang ada di Indonesia

Alvin tentara yang taat dan patuh terhadap Pancasila dan UUD

Alvin memang seorang tentara meskipun badannya tidak tegap

8. Rani dan Rano selalu bermain bersama-sama. Mereka berdua selalu mendukung satu sama lain. Rani tidak mau bermain dengan orang yang kasar. Rani memiliki banyak teman namun dia suka bermain dengan Rano.

Rani dan Rano adalah sahabat kompak

Rani suka dengan Rano karena baik

Rani tidak kasar

Rano adalah anak yang senang bermain

Rano suka dengan Rani

9. Pada sebuah meja melingkar, 8 orang siswa (A, B, C, D, E, F, G, H) akan duduk pada meja tersebut dengan aturan sebagai berikut.

- A duduk berhadapan dengan G
- D duduk diantara C dan F
- B duduk tepat berhadapan dengan F
- C duduk terpisah berjarak dua kursi dari G

Diantara beberapa kemungkinan berikut adalah benar, kecuali...

B duduk diantara E dan A

F dan H duduk dipisahkan oleh G

H duduk diantara A dan C

G dipisahkan 2 kursi dengan B

B duduk selalu berhadapan dengan F

10. Tujuh orang siswa Ma, Na, Oa, Pa, Qa, Ra, dan Sa. Mereka akan duduk pada kursi yang diberi nomor 1-7 berturut-turut dari kiri ke kanan. Na dan Pa adalah saudara dan selalu duduk bersampingan. Sa duduk paling kanan. Ma duduk ditengah-tengah mereka. Ada 3 orang yang duduk diantara Qa dan Ra. Dari ketereangan di atas, pernyataan berikut yang pasti salah adalah

- A. Qa duduk di kursi no. 5
- B. Na duduk di kursi no. 2
- C. Pa duduk di kursi no. 3
- D. Oa duduk di kursi no. 6
- E. Ra duduk di kursi no. 2

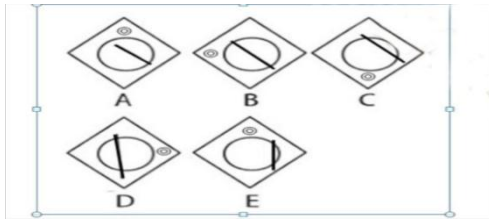
11. Sebuah sekolah mengadakan lomba lari yang diikuti oleh 6 siswa yaitu Man, Nan, Oan, Pan, Qan, Ran lebih cepat daripada Pan, namun lebih lambat dari Oan. Man berlari diantara Pan dan Qan. Nan lebih cepat dari Man, namun lebih lambat dari Pan. Tidak ada siswa yang finish diposisi yang sama.

Siswa tercepat adalah

- A. Ran
- B. Pan
- C. Oan
- D. Man

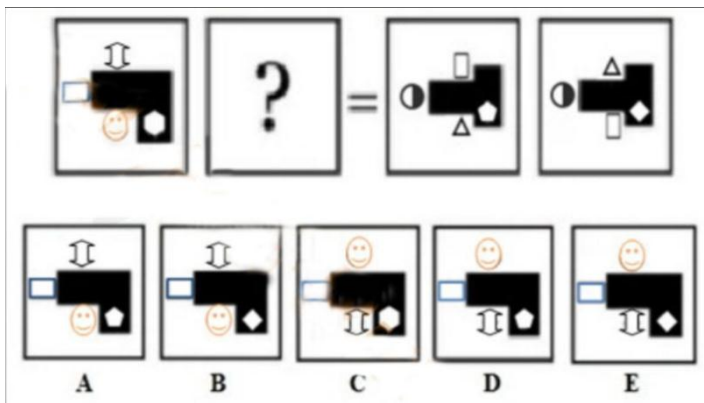
E. Nan

12. Carilah gambar yang berbeda



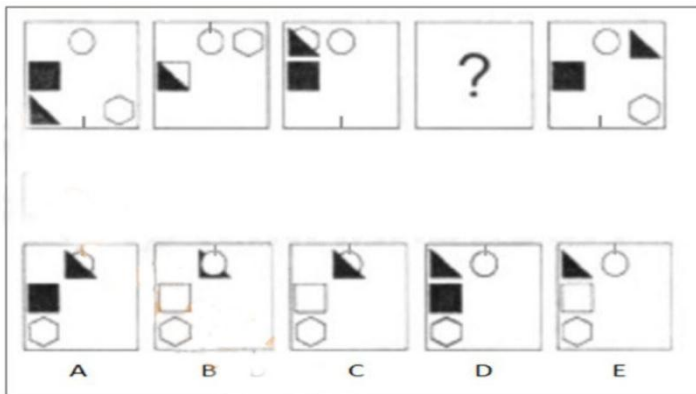
- A. Gambar A
- B. Gambar B
- C. Gambar C
- D. Gambar D
- E. Gambar E

13. Carilah analogi untuk gambar berikut ini.



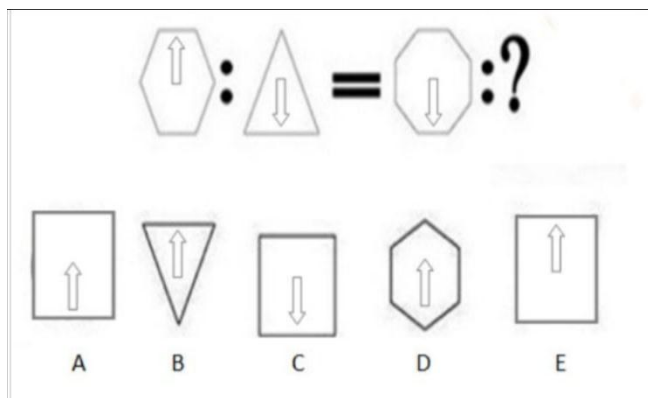
- A. Gambar A
- B. Gambar B
- C. Gambar C
- D. Gambar D
- E. Gambar E

14. Carilah analogi untuk gambar berikut ini.



- A. Gambar A
- B. Gambar B
- C. Gambar C
- D. Gambar D
- E. Gambar E

15. Carilah analogi untuk gambar berikut ini.



- A. Gambar A
- B. Gambar B
- C. Gambar C
- D. Gambar D
- E. Gambar E